



## Problème de la semaine





### Problème A

#### Des biscuits en fuite

Janelle et Jean-Paul ont préparé 70 biscuits pour une vente de pâtisseries à l'école. Ils ont fait cinq sortes différentes de biscuits et il y avait un nombre pair de biscuits de chaque sorte. En arrivant à l'école, Janelle et Jean-Paul se sont rendu compte qu'ils n'avaient pas les biscuits *au sucre*.

Voici le pictogramme des biscuits qu'ils ont apportés à l'école.

Chaque  représente 4 biscuits.

Sorte de biscuit	Nombre de biscuits
Pépites de chocolat	
Avoine et raisins	
Pain d'épice	
Au sucre	
Macaron à la noix de coco	

Combien de biscuits *au sucre* ont-ils oubliés à la maison ?

Complète le pictogramme et explique ta réponse.

