









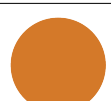









Problème de la semaine

Problème A

Les sommes de formes

Chaque symbole dans la grille ci-dessous représente un nombre. Les sommes des symboles dans la première rangée, la deuxième rangée et la rangée du bas, ainsi que celles dans la colonne la plus à gauche et la colonne la plus à droite, sont indiquées.

| | | | | |
|--|--|--|---|----|
|  |  |  |  | 20 |
|  |  |  |  | 17 |
|  |  |  |  | ? |
|  |  |  |  | 15 |
| 12 | ? | ? | 19 | |

Par exemple, nous savons que :  +  +  +  = 20

Détermine toutes les sommes qui manquent.